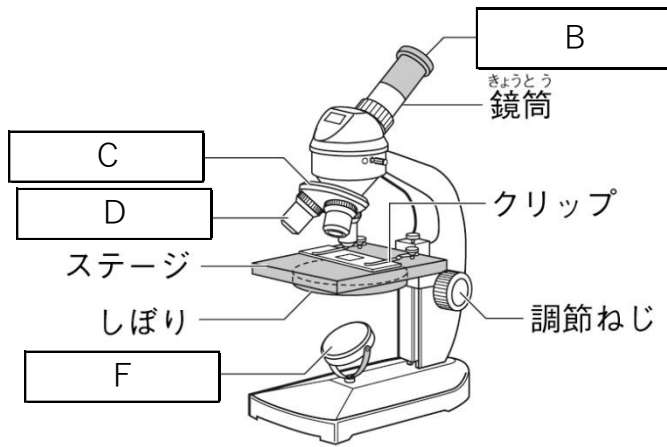
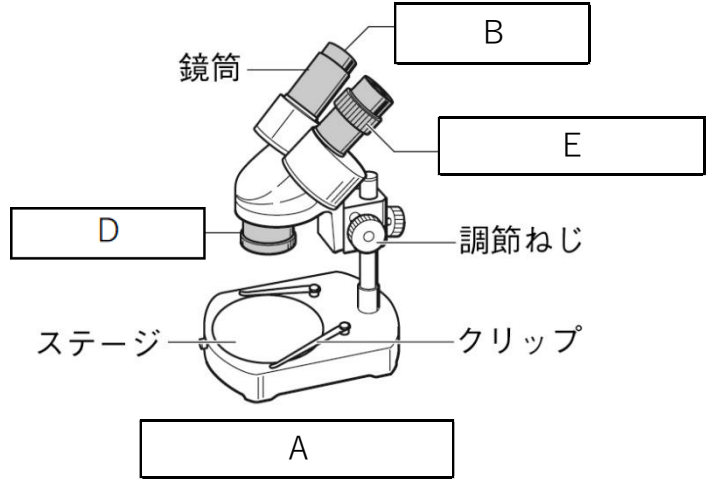


問題



ステージ上下式顕微鏡



① 上の図の A にあてはまる実験道具と、 B ~ F にあてはまる語句を書きなさい。

①	A	B	C
	D	E	F


② 上の図の A の実験道具の基本的な使い方について、下の (ア) ~ (エ) に入る語句を書きなさい。

1. 両目の間隔が合うように、(ア) を調節して、左右の (イ) が重なって見えるようにする。
2. 右目でのぞきながら、(ウ) を回して (ア) を上下させてピントを合わせる。
3. 左目でのぞきながら、(エ) を回してピントを合わせる。

②	ア	イ	ウ	エ
---	---	---	---	---

③ 上の図の A の実験道具を使用すると、観察物が拡大して見えるほかに、どのように見えるか、書きなさい。

③ _____



④ 右の図を参考にして、ルーペの使い方について下の () の中の言葉で正しいものを選んでそれぞれ書きなさい。

- A: 観察するものを動かせるときは、(顔 ・ 観察するもの) を動かして観察する。
 B: 観察するものが動かせないときは、(顔 ・ 観察するもの) を動かして観察する。

⑤ ルーペの使用について、危険を防止するため、絶対に見てはいけないものは何か、書きなさい。

④	A	B	⑤
---	---	---	---